

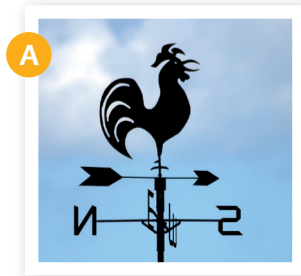


- Observa els aparells de les fotografies i contesta:



- Quins aparells són?

A .....  
.....

C .....  
.....

B .....  
.....

D .....  
.....

- Quin element del clima es mesura amb cada un d'aquests aparells?

A .....  
.....

C .....  
.....

B .....  
.....

D .....  
.....

- En quines unitats s'expressa el que mesuren aquests aparells?

A .....  
.....

C .....  
.....

B .....  
.....

D .....  
.....

- Quins altres aparells coneixes? .....

.....