

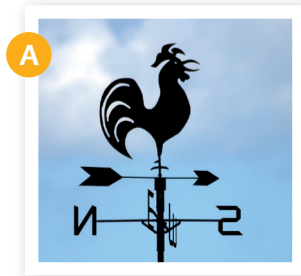


- Observa els aparells de les fotografies i contesta:



- Quins aparells són?

A

C

B

D

- Quin element del clima es mesura amb cada un d'aquests aparells?

A

C

B

D

- En quines unitats s'expressa el que mesuren aquests aparells?

A

C

B

D

- Quins altres aparells coneixes?

.....